

Επανάληψη Ενότητας 5



Κάνε τις πράξεις:



$40 - 10 =$

$60 - 50 =$

$70 + 30 =$

$30 + 9 =$

$42 - 2 =$

$8 + 70 =$

$40 + 50 =$



$90 - 60 =$

$10 + 3 =$

$50 - 50 =$

$100 - 40 =$

$60 + 4 =$

$7 + 70 =$

$55 - 5 =$

$88 - 8 =$

$44 - 4 =$

$10 + 50 =$

$80 - 50 =$

$40 - 40 =$

$50 - 30 =$

$80 + 7 =$



Βρες τον αριθμό που λείπει:



$50 + \dots = 80$

$38 - \dots = 30$

$40 + \dots = 45$

$\dots + 6 = 56$

$15 - \dots = 10$

$\dots + 8 = 28$

$10 + \dots = 90$

$60 - \dots = 10$

$67 - \dots = 60$

$\dots + 8 = 78$

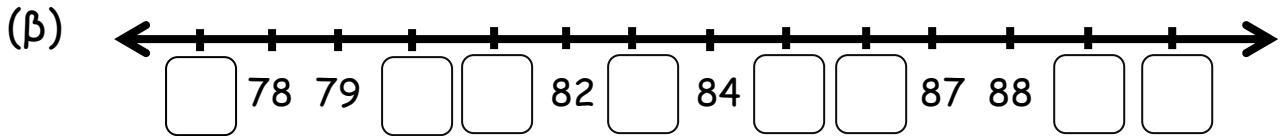
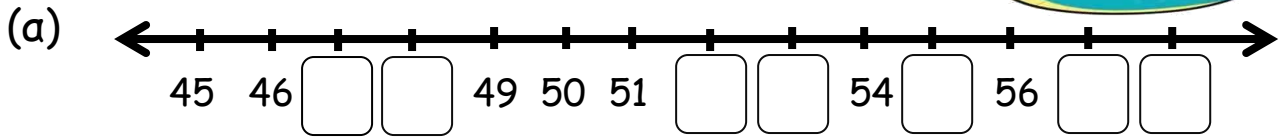
$37 - \dots = 30$

$50 - \dots = 0$

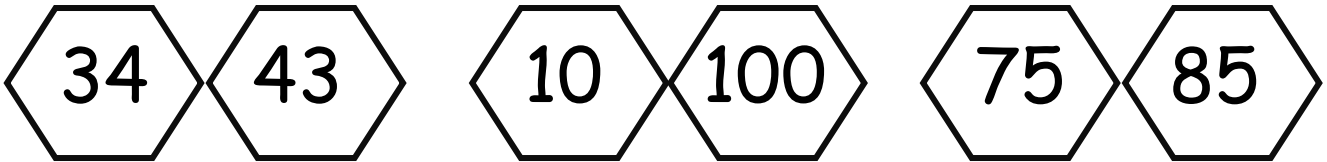


Όνομα: Τάξη:

◆ Να συμπληρώσεις τις αριθμητικές γραμμές:



◆ Χρωμάτισε τον μεγαλύτερο αριθμό:



◆ Διάβασε προσεκτικά και λύσε τα πιο κάτω προβληματάκια:

(1) Στα γενέθλια του Γιάννη πήγαν 20 αγόρια και 9 κορίτσια.

Πόσα παιδιά πήγαν στα γενέθλια του Γιάννη;

Μαθηματική Πρόταση:.....

Απάντηση:.....



(2) Η Στέιση είχε στο πορτοφόλι της €38. Αγόρασε μια κούκλα που στοίχιζε €8. Πόσα χρήματα της έμειναν;

Μαθηματική Πρόταση:.....

Απάντηση:.....

