

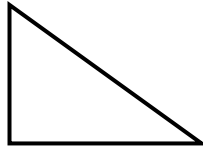
# Επανάληψη στα Μαθηματικά - Ενότητα 4

Όνομα: ..... Ημερομηνία:.....


1. Ονόμασε τα πιο κάτω γεωμετρικά σχήματα:




\_\_\_\_\_



\_\_\_\_\_



\_\_\_\_\_




\_\_\_\_\_

2. Να κατασκευάσεις:

A) ένα τετράγωνο και να το χρωματίσεις κίτρινο

B) ένα ορθογώνιο και να το χρωματίσεις κόκκινο


Γ) ένα τρίγωνο και να το χρωματίσεις μπλε



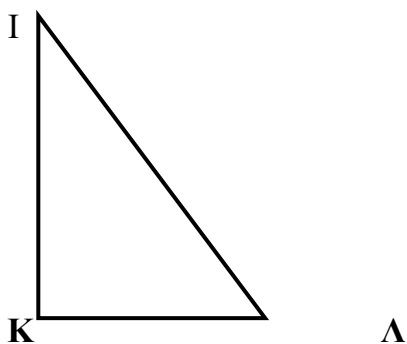
3. Βρες το μήκος των πλευρών των πιο κάτω σχημάτων. Ακολούθως υπολόγισε και την περίμετρο του κάθε σχήματος.



ΑΒ	
ΒΓ	
ΓΔ	
ΔΑ	
Περίμετρος	

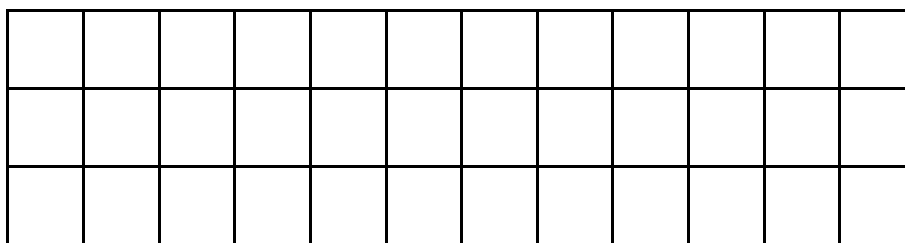


EZ	
ZH	
HΘ	
ΘE	
Περίμετρος	



IK	
ΚΛ	
ΙΛ	
Περίμετρος	

4. Κατασκεύασε ένα ορθογώνιο MNEO με πλευρές 7 και 2 εκατοστόμετρα. Ακολούθως βρες την περιμέτρό του.

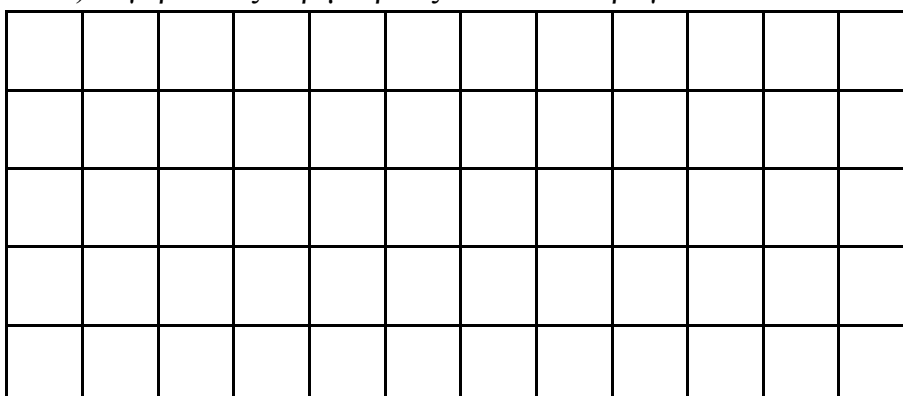


Περίμετρος: \_\_\_\_\_

5. Α) Κατασκεύασε ένα τετράγωνο ΑΒΓΔ με πλευρά 4 εκατοστόμετρα.

Β) Κατασκεύασε ένα τετράγωνο ΕΖΗΘ με πλευρά 2 εκατοστόμετρα μικρότερη από την πλευρά του πρώτου τετραγώνου.

Γ) Σύγκρινε τις περιμέτρους των δύο τετραγώνων και κάνε παρατηρήσεις.



Περίμετρος ΑΒΓΔ=

-----  
-----

Περίμετρος ΕΖΗΘ=

-----  
-----

Σύγκριση περιμέτρων: -----  
-----